

FECHA: _____ NOMBRE: _____

1 **ESCRIBÍ** LOS NÚMEROS DE LOS CARTELES.

ciento veintiuno

ciento trece

noventa y cinco

ciento treinta y tres

RODEÁ LOS QUE ESTÁN ENTRE 89 Y 123.

2 **COMPLETÁ** LOS NÚMEROS QUE FALTAN.


$$\dots\dots\dots + 70 = 100$$

$$80 - \dots\dots\dots = 40$$

$$55 + \dots\dots\dots = 100$$

$$100 - \dots\dots\dots = 40$$

3 **ESCRIBÍ** EL NOMBRE DE ESTAS FIGURAS.



PINTÁ LAS FIGURAS QUE TIENEN CUATRO VÉRTICES.

4 EN TU CUADERNO, **RESOLVÉ** CADA PROBLEMA.

A
SANTINO COMPRÓ CAMELOS. SI COMPARTIÓ 8 Y LE QUEDARON 27, ¿CUÁNTOS CAMELOS TENÍA?

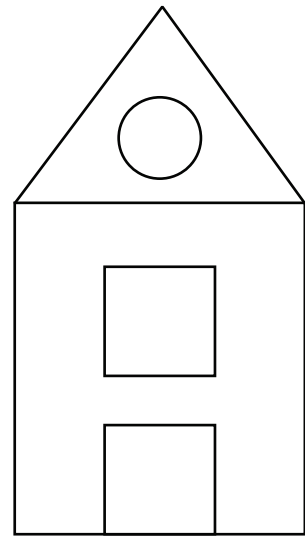
B
A LARA LE REGALARON POR SU CUMPLEAÑOS 5 AUTITOS DE JUGUETE. ANTES TENÍA 33. ¿CUÁNTOS TIENE AHORA?

FECHA: _____ NOMBRE: _____

1 COMPLETÁ EL CUADRO.

| 5 MENOS | NÚMERO | 5 MÁS |
|---------|--------|-------|
| | 143 | |
| | 167 | |
| | 171 | |
| | 192 | |

2 ESCRIBÍ LA MEDIDA DE CADA LADO DEL RECTÁNGULO. **DELINEÁ** CON EL MISMO COLOR LOS QUE MIDEN IGUAL.

3 LOS CHICOS DE SEGUNDO GRADO TIENEN QUE ARMAR TARJETAS PARA REPARTIR EN EL FESTEJO DE LA REVOLUCIÓN DE MAYO. **LEÉ** ESTA TABLA.

| ALUMNO | JUAN | ROCÍO | ALEJO | MARTINA | TOMÁS |
|----------|------|-------|-------|---------|-------|
| TARJETAS | 31 | 42 | 100 | 84 | 27 |

EN HOJA APARTE, **RESOLVÉ** ESTOS PROBLEMAS.

- A) ¿CUÁNTAS TARJETAS HICIERON ENTRE ROCÍO Y MARTINA?
- B) ¿CUÁNTAS TIENE QUE HACER TOMÁS PARA IGUALAR A JUAN?
- C) ¿ES CIERTO QUE ENTRE JUAN, ROCÍO Y TOMÁS HICIERON TANTAS TARJETAS COMO ALEJO?

FECHA: _____ NOMBRE: _____

- 1 La tía y la abuela de Andrés le regalaron por su cumpleaños dos sobres con la misma cantidad de plata en cada uno. **Contá** estos billetes y monedas que encontró en uno de los sobres y **escribí** cuánto dinero juntó en total.



Respuesta:

- 2 **Estimá** el resultado de estos problemas y **pintá** la opción que creas correcta. Luego, **resólvelos** en hoja aparte y **comprobá** tus respuestas.

A Franco tenía una bolsa con 381 caramelos. Si repartió 259 entre sus compañeros de segundo, ¿cuántos caramelos le quedaron en la bolsa?

Menos de 100

Más de 100

B Mora tiene 61 fotografías de su familia en su celular. Si en su cumpleaños sacó 38 más, ¿cuántas fotografías tiene?

Menos de 100

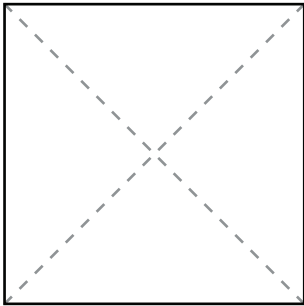
Más de 100

- 3 **Completá** la tabla.

| | El doble es... | La mitad es... |
|-----|----------------|----------------|
| 90 | | |
| 140 | | |
| 200 | | |

FECHA: _____ NOMBRE: _____

- 1 **Escribí** las instrucciones para llegar a este plegado. ¿Qué figura se forma al final?



- 2 Bautista sacó sus ahorros de la alcancía. **Dibujá** el dinero que ahorró y **respondé** en hoja aparte.

3 billetes de \$ 100

6 billetes de \$ 50

4 monedas de \$ 2



- ☞ ¿Cuánto dinero tiene Bautista?
- ☞ ¿Cuánto le falta para llegar a \$700?
- ☞ Si compra un libro a \$ 585, ¿cuánta plata le queda?

- 3 **Completá** los visores con el resultado de cada cálculo.

$$\boxed{146} - 10 = \boxed{} - 10 = \boxed{} - 10 = \boxed{}$$

$$\boxed{237} + 100 = \boxed{} + 100 = \boxed{} + 100 = \boxed{}$$

$$\boxed{395} - 10 = \boxed{} + 100 = \boxed{} - 1 = \boxed{}$$

FECHA: _____ NOMBRE: _____

1 Completá las tablas.

| | | | | | | | | | | |
|--------|---|---|---|---|---|---|---|---|---|----|
| Cajas | 1 | 2 | 3 | 4 | 5 | 6 | 7 | 8 | 9 | 10 |
| Libros | 5 | | | | | | | | | 50 |

| | | | | | | | | | | |
|----------|---|---|----|---|---|---|----|---|---|----|
| Cajas | 1 | 2 | 3 | 4 | 5 | 6 | 7 | 8 | 9 | 10 |
| Carpetas | | | 30 | | | | 70 | | | |

¿Qué relación hay entre la tabla del 5 y la tabla del 10?

2 Pintá los cálculos que permiten resolver cada situación y **resólvelos** en hoja aparte.

A) Para compartir con sus amigos, Julián llenó 4 frascos con 6 galletitas cada uno. ¿Cuántas galletitas llevó en total?

4×6

$6 + 6 + 6 + 6$

$4 + 4 + 4 + 4 + 4 + 4$

6×4

$6 + 4$

B) Delfina se va 7 días de vacaciones. Llevará 2 remeras para usar cada día. ¿Cuántas remeras en total pondrá en la valija?

$2 + 7$

$2 + 2 + 2 + 2 + 2 + 2 + 2$

2×7

$7 + 7 + 7 + 7 + 7 + 7 + 7$

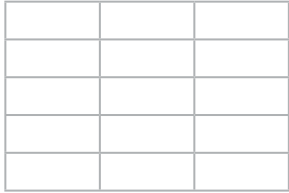
7×2

2 Respondé si estas oraciones son verdaderas (V) o falsas (F).

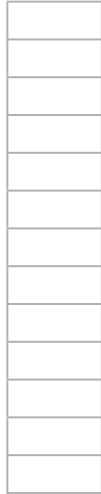
 Un paquete de 1 kg de polenta es equivalente a tres paquetes de $\frac{1}{4}$ kg. Dos bolsas de $\frac{1}{4}$ kg de frutillas pesan lo mismo que una de $\frac{1}{2}$ kg. Un pote de helado de $\frac{1}{2}$ kg y otro de $\frac{1}{4}$ kg pesan más que 1 kg. Un paquete de 2 kg de café pesa lo mismo que 8 paquetes de $\frac{1}{4}$ kg.

FECHA: _____ NOMBRE: _____

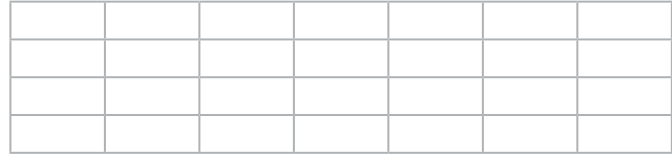
1 **Escribí** la multiplicación que harías para saber cuántos rectángulos tiene cada dibujo.



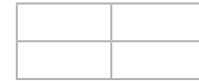
Respuesta:



Respuesta:



Respuesta:

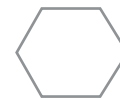
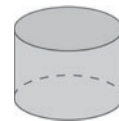
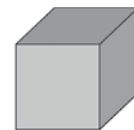
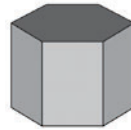
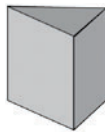
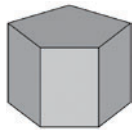


Respuesta:

2 **Resolvé** en hoja aparte.

- Andrea tiene 3 cajas de 5 lápices cada una. Su mamá le regaló una más por su cumpleaños. ¿Cuántas cajas tiene ahora en total? ¿Y cuántos lápices?
- Marcos compró chupetines para repartir entre sus alumnos de 1.º, 2.º y 3.º. Si son 100 alumnos y cada chupetín sale \$ 6, ¿cuánta plata gastó?

3 **Uní** cada caja con la cara que le corresponde y **resolvé**.




- Rodeá** la caja que tiene 9 aristas.
- Pintá** las caras que tienen una cantidad impar de vértices.


FECHA: _____ NOMBRE: _____

1 **Marcá** las horas en los relojes.

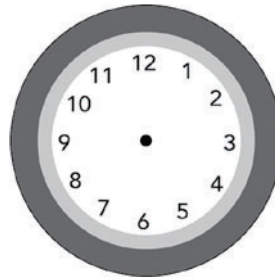
10 y media




23 en punto



12 y cuarto



18 treinta



2 Agustina quiere saber cuántos brotecitos de especias tiene en su huerta.
Pintá los cálculos que le permiten resolver las sumas.

Perejil: $640 + 273$

$600 + 200 + 40 + 70 + 3 =$

$64 + 27 + 3 =$

$40 + 70 + 3 + 600 + 200 =$

$600 + 200 + 100 + 63 =$

Orégano: $310 + 589$

$300 + 500 + 200 + 80 =$

$300 + 500 + 10 + 9 + 80 =$

$58 + 31 + 9 =$

$40 + 9 + 40 + 500 + 10 + 300 =$

2 **Completá** la tabla.

| | 5 | 15 | 25 | 35 | 45 | 55 | 65 | 75 | 85 | 95 |
|-----|---|-----|----|----|----|----|-----|----|-----|----|
| 700 | | | | | | | | | 785 | |
| 800 | | 815 | | | | | | | | |
| 900 | | | | | | | 965 | | | |

FECHA: _____ NOMBRE: _____

1 **Completá** la tabla.

| Número | x 10 | x 100 |
|--------|------|-------|
| 9 | | |
| | 30 | |
| | 110 | |
| | | 800 |

2 ¿Cuántos litros de agua hay en total?



Respuesta:

3 **Resolvé** en hoja aparte.

- Los chicos de segundo fueron a ver una obra de teatro. Fueron 15 chicos y chicas, 3 papás y 2 docentes.
¿Cuánto pagaron en total por las entradas?

El teatro de la esquina

Entradas:

| | |
|----------------|--------|
| General | \$ 120 |
| Docentes | \$ 60 |
| Alumnos | \$ 50 |

4 La profe de Plástica compró útiles para el próximo año. **Completá** la tabla.

| Útiles | Cantidad | Precio por unidad | Precio total |
|--------------------|----------|-------------------|--------------|
| Cartulinas | 20 | \$ 20 | |
| Témperas | | \$ 20 | \$ 100 |
| Tinta china | 5 | | \$ 200 |
| Pinceles | 40 | | \$ 400 |
| Total de la compra | | | \$ |